

第1問 次の文章A・Bを読み、下の問い(問1～10)に答えよ。

A  世紀中頃から後半になると、近畿中部から瀬戸内海沿岸にかけての地域で古墳<sup>a)</sup>が出現した。特に巨大な古墳は奈良盆地に多くつくられており、このことから大和の首長たちを中心とする政治連合体であるヤマト政権<sup>b)</sup>が誕生したと考えられている。

朝鮮半島南部の鉄資源を確保するために  諸国と関係を持っていたヤマト政権は、4世紀後半に  が南下政策を展開すると、 や  とともに  と争うことになった。414年にたてられた  の  碑文には、諸国が朝鮮半島で対立し、戦った状況が記されている。

ヤマト政権は、さらに5世紀初めから約1世紀の間、 によれば、倭の五王が次々に中国の南朝に朝貢し、朝鮮半島南部に影響力を持つことを示す称号を得ようとしたことが記されている。これはヤマト政権の王が、中国の皇帝の権威を背景に、朝鮮諸国に対して政治的優位を確保するとともに、この地域の鉄資源を確保することも目的としたものと考えられる。また、この当時、ある銘文<sup>c)</sup>によると、4世紀にヤマト政権と  が通交していたことがわかる。

問1 空欄  ～  に入る語句の組み合わせとして正しいものを、次の①～④のうちから一つ選べ。

- |       |       |       |
|-------|-------|-------|
| ① ア－3 | イ－新羅  | ウ－百済  |
| ② ア－2 | イ－高句麗 | ウ－加耶  |
| ③ ア－3 | イ－加耶  | ウ－高句麗 |
| ④ ア－2 | イ－百済  | ウ－高麗  |

問2 下線部 a に関する説明として誤っているものを、次の①～④のうちから一つ選べ。

2

- ① 前期の古墳の副葬品には、銅鏡や腕輪型石製品などの呪術的・宗教的色彩の強いものが多く、被葬者は司祭者的性格を持っていたと考えられる。
- ② 最大規模の古墳は、中期に造営された大阪府の造山古墳で、前方後円墳の長さが486mあり、濠をめぐらしている。
- ③ 後期になると、従来の竪穴式の埋葬施設にかわって朝鮮半島と共通の横穴式石室が一般化していった。
- ④ 九州や東日本の一部では、顔料を使って幾何学文様や絵を描いた装飾古墳があらわれ、福岡県竹原古墳や茨城県の虎塚古墳などが知られている。

問3 下線部 b のヤマト政権に関する説明として誤っているものを、次の①～④のうちから一つ選べ。

3

- ① ヤマト政権下の豪族は、血縁を中心に「氏」という組織をつくってヤマト政権の職務を分担した。この「氏」の代表者を氏上、成員を氏子といった。
- ② ヤマト政権は手工業者や住民を部に編成しており、大王とその一族に仕える名代・子代、技術者集団を編成した品部、豪族に属する部曲などがあつた。
- ③ ヤマト政権は、屯倉とよばれる直轄地を各地に設け、有力な豪族は田荘とよばれる私有地をもっていた。
- ④ ヤマト政権に服属した諸地方の豪族の首長には国造や県主などの地位を与え、その地方の支配を保障される一方、子女を舎人・采女<sup>うねめ</sup>として出仕させられた。

問4 空欄 **工** ～ **カ** に入る語句の組み合わせとして正しいものを、次の①～④のうちから一つ選べ。

4

- |          |                |             |
|----------|----------------|-------------|
| ① 工 - 百濟 | オ - 長寿王        | カ - 『魏志』倭人伝 |
| ② 工 - 新羅 | オ - 好太王 (広開土王) | カ - 『魏志』倭人伝 |
| ③ 工 - 百濟 | オ - 好太王 (広開土王) | カ - 『宋書』倭国伝 |
| ④ 工 - 新羅 | オ - 長寿王        | カ - 『宋書』倭国伝 |

問5 下線部cの「ある銘文」が記されているものとして石上神宮七支刀がある。  
その銘文として正しいものを、次の①～④のうちから一つ選べ (史料には適宜、手を加えてある)。

5

- ① 夫れ楽浪海中に倭人有り。分かれて百余国と為る。歳時を以て来り献見すと云ふ。
- ② 癸未年八月日十、大王の年、男弟王、意柴沙加宮に在せし時、斯麻、長寿を念じ、開中費直穢人・今州利二人等を遣はし、白上同二百早を取り、此の竟を作る。
- ③ 安帝の永初元年、倭の国王帥升等、生口百六十人を献じ、請見を願ふ。
- ④ 泰和四年□月十六日、丙午正陽、(中略)。□百兵を辟く。供供たる侯王を宜くす。

B 「延喜・天暦の治」は、のちに天皇親政の理想的時代と称賛されたが、

d)  年を最後に班田収授がおこなわれていないことから、律令体制の崩壊が明らかになった時代であった。政府は律令制の再建をこころみたが、租税を徴収して国家財政を維持することが困難になっていた。こうした事態に対応するため、政府は  に地方行政を任せるいっぽう、一定額の租税納入を  に請負わせる体制へと転換した。

10世紀には、耕地は  と呼ばれる課税単位に編成され、 と呼ばれる有力農民が官物・臨時雑役などの納税を請負う方式に転換した。10世紀以降、勢力をたくわえてきた  は、墾田開発を推し進め  と呼ばれるようになった。

は、これらの開発地を国衙領に組み込んで、 に徴税を請負わせる一方で、 のなかには、 からの収奪をのがれるため、中央の有力な貴族や寺社に私領を寄進して荘園とし、自らは荘官となって、現地の支配をおこなう者もいた。寄進を受けた貴族や寺社などを  <sup>e)</sup> といい、さらに寄進を受けた上級の貴族や寺社などを  という。こうして寄進を受けたことで成立した荘園を寄進地系荘園 <sup>f)</sup> という。

問6 下線部 d に関する説明として適切なものを、次の①～④のうちから一つ選べ。

6

- ① 醍醐天皇による延喜の治において、右大臣には菅原道真、左大臣には藤原実頼がつき、藤原実頼は摂政も兼務した。
- ② 醍醐天皇の治世のころ、東アジアでは唐が滅亡したほか、契丹を滅ぼして渤海が誕生した。
- ③ 村上天皇による天暦の治において、大嘗会がおこなわれ、また勅撰和歌集『古今和歌集』が編纂された。
- ④ 村上天皇の治世のとき、本朝(皇朝)十二銭の最後となる乾元大宝が铸造された。

問7 空欄 **キ** ～ **コ** に入る語句の組み合わせとして正しいものを、次の①～④のうちから一つ選べ。

7

- |         |      |         |      |
|---------|------|---------|------|
| ① キ-939 | ク-郡司 | ケ-乗田    | コ-庶子 |
| ② キ-902 | ク-国司 | ケ-名(名田) | コ-田堵 |
| ③ キ-939 | ク-国司 | ケ-乗田    | コ-田堵 |
| ④ キ-902 | ク-郡司 | ケ-名(名田) | コ-庶子 |

問8 空欄 **サ** ～ **ス** に入る語句の組み合わせとして正しいものを、次の①～④のうちから一つ選べ。

8

- |          |        |        |
|----------|--------|--------|
| ① サ-開発領主 | シ-本家   | ス-領家   |
| ② サ-領家   | シ-開発領主 | ス-本家   |
| ③ サ-開発領主 | シ-領家   | ス-本家   |
| ④ サ-領家   | シ-本家   | ス-開発領主 |

問9 下線部 e に関して、荘官として誤っているものを、次の①～④のうちから一つ選べ。

9

- ① 守護                      ② 預所                      ③ 下司                      ④ 公文

問10 下線部 f に関する説明として誤っているものを、次の①～④のうちから一つ  
選べ。

10

- ① 寄進を受けた荘園領主のうち、実質的な荘園の支配権を持つものを本所と呼んだ。
- ② 荘園のなかには、検田使などの立ち入りを認めない特権を獲得するものもあった。
- ③ 尾張国の百姓らが、藤原元命に土地を寄進する際の条件を31カ条にまとめている。
- ④ 寄進地系荘園の史料として有名な「鹿子木荘」に関する記録が、『東寺百合文書』に収められている。

第2問 次の文章A～Cを読み、下の問い(問1～10)に答えよ。

A 1028年、房総半島で平忠常の乱がおこると、がこれをしずめ、これ以後、源氏は関東地方に影響力をもつようになった。<sup>a)</sup>1051年、陸奥で安倍頼時らが反乱をおこすと、の子と孫のは東国の武士を率いて戦い、の豪族清原氏の援助を得て、安倍氏を滅ぼした。1083年、安倍氏にかわって勢力を得た清原一族の争いがおきると、は清原一族の藤原清衡を助けてこれを鎮圧した。これら二つの合戦を鎮圧したことにより、東国の源氏の基盤は強固なものとなった。このち奥羽では、藤原清衡以降、100年にわたって奥州藤原氏が大きな勢力をきずいた。  
b)

B 琉球では12世紀になると、各地に按司とよばれる地方豪族があらわれ、グスク(城)をつくり互いに争うようになった。14世紀になると政治的な統合がすすみ、北山・南山・中山の分立時代をむかえ、<sup>c)</sup>1429年に中山王のが琉球王国<sup>d)</sup>を建てて都を首里におき、琉球を統一した。

C 現在の北海道は蝦夷ヶ島とよばれており、14世紀以降に本州との交易が活発になった。その交易を推進したのが、津軽を拠点にした安藤(東)氏であった。その後、<sup>e)</sup>渡島半島を中心に関東(和人)が移住するようになった。彼らは古くから住んでいたアイヌの生活を圧迫したため、1457年、アイヌはコシヤミンを中心に関東すると、和人の豪族蠣崎氏は、この蜂起を鎮圧して勢力を強め、松前に拠点を築いて、アイヌとの交易権を握ることに成功した。

問1 空欄～に入る語句の組み合わせとして正しいものを、次の①～④のうちから一つ選べ。

- |  |                                      |                                      |
|--|--------------------------------------|--------------------------------------|
| ① <input type="text" value="ア"/> - 源頼信 | <input type="text" value="イ"/> - 源頼義 | <input type="text" value="ウ"/> - 源義家 |
| ② <input type="text" value="ア"/> - 源満仲 | <input type="text" value="イ"/> - 源義朝 | <input type="text" value="ウ"/> - 源高明 |
| ③ <input type="text" value="ア"/> - 源頼信 | <input type="text" value="イ"/> - 源義朝 | <input type="text" value="ウ"/> - 源義家 |
| ④ <input type="text" value="ア"/> - 源満仲 | <input type="text" value="イ"/> - 源頼義 | <input type="text" value="ウ"/> - 源高明 |

問2 下線部 a に関して、1051年の安倍頼時らの反乱を題材にした軍記物語として正しいものを、次の①～④のうちから一つ選べ。

12

- ① 『清良記』      ② 『本朝文粹』      ③ 『平家物語』      ④ 『陸奥話記』

問3 下線部 a に関して、1051年前後の仏教に関する説明として誤っているものを、次の①～④のうちから一つ選べ。

13

- ① 極楽往生したといわれる人々の伝記を集めた往生伝が多くつくられ、生き方の模範とされた。  
② 加持祈禱により、現世利益を追求するという密教が、皇族や貴族だけでなく庶民の間にも広く浸透していった。  
③ 阿弥陀堂を中心とする寺院や、貴族の好みに合う優美な阿弥陀如来像が数多くつくられた。  
④ 往生する人々を阿弥陀仏が迎えにくる情景を描いた来迎図が盛んにつくられた。

問4 空欄  に入る国名として正しいものを、次の①～④のうちから一つ選べ。

14

- ① 備後      ② 相模      ③ 出羽      ④ 越前

問5 下線部 b に関して、藤原清衡以降の奥州藤原氏の人物で、年代順に正しいものを、次の①～④のうちから一つ選べ。

15

- ① 秀衡－基衡－泰衡      ② 基衡－秀衡－泰衡  
③ 泰衡－基衡－秀衡      ④ 秀衡－泰衡－基衡

問6 下線部 c に関して、1429年におきた出来事として正しいものを、次の①～④のうちから一つ選べ。

16

- ① 播磨の土一揆      ② 正長の徳政一揆(土一揆)  
③ 三河の一向一揆      ④ 嘉吉の徳政一揆(土一揆)

問7 空欄 **オ** に入る人名として正しいものを、次の①～④のうちから一つ  
選べ。 17

- ① 尚泰                      ② 尚寧                      ③ 尚巴志                      ④ 尚真

問8 下線部 **d** に関する説明として誤っているものを、次の①～④のうちから一つ  
選べ。 18

- ① 琉球王国の王宮首里城は、独自の琉球文化を基調とした建築で、中国や日本の影響を一切うけていない。  
② 明の海禁政策のもと、東アジア諸国間の中継貿易で繁栄したが、16世紀半ばにポルトガルが進出してくると、その活動は衰退していった。  
③ 1609年に薩摩の島津氏に服属したが、名目上は独立を保ち、明との冊封関係は継続された。  
④ 1879年の琉球処分によって、琉球藩および琉球王国の廃止と沖縄県の設置を断行した。

問9 空欄 **カ** に入る地名として正しいものを、次の①～④のうちから一つ  
選べ。 19

- ① 坊津                      ② 十三湊                      ③ 酒田                      ④ 寺泊

問10 下線部 **e** に関する説明として誤っているものを、次の①～④のうちから一つ  
選べ。 20

- ① 樺太・千島・北海道に古くから住み、アイヌ語を母語とした民族である。  
② アイヌとは神に対する「人間」を意味する。  
③ 15～16世紀には大首長と首長に率いられた社会を形成し、共同体を営んだ。  
④ 蜂起を受けて、ただちにアイヌとの融和を図るための法度が制定された。



### 第3問 次の文章を読み、下の問い(問1～10)に答えよ。

1716年、江戸幕府7代将軍徳川家継が幼年のまま死去し、徳川宗家(将軍家)の血統が途絶えると、御三家の紀伊藩主であった徳川吉宗が8代将軍に就任した。吉宗による幕政改革の主な施策をいくつか見てみよう。まず倭約令により支出をおさえる一方で、大名から米を上納させるとともに、**ア**など幕府財政の再建をはかった。また、貨幣経済が浸透する中で、武家の財政を安定させるためには米価の調整が必要な<sup>a)</sup>ことから**イ**の米市場を公認した。吉宗が「米公方」と呼ばれる所以は米価の調整に苦勞したからと言われている。江戸の都市政策は、町奉行に抜擢された**ウ**を中心に進められたが、例えば、目安箱への投書からつくられた、貧民を対象とした医療施設である小石川養生所の設立には**ウ**も関与していた。**ウ**はまた、公事方御定書の編纂にも携わり、合理的な司法制度の確立にも尽力した。吉宗は、漢訳洋書の輸入制限緩和にも踏み切ったが、このことが蘭学研究隆興の基礎を築くことになった。1745年、9代将軍には吉宗の長男<sup>b)</sup>である家重が就いたが、次男の宗武には田安家を、四男の<sup>むねただ</sup>宗尹には一橋家をそれぞれおこさせた。この二家に清水家加わり御三卿となり、御三家とともに宗家を継ぐ資格をもつとされた。では、田安家と一橋家から出た人物を見てみよう。

宗武の七男として田安家に生まれた松平定信は、将来の将軍候補と目されたこともあったが、**エ**松平家の養子となり、1783年には**エ**藩主となったが、いきなり**オ**の飢饉という難局に直面した。定信はこれを倭約、食糧の緊急輸送、備荒貯蓄などの施策により乗り切った。こうした藩政の実績や聡明さが評価され、1787年に老中首座となり寛政の改革と呼ばれる幕政改革をおこなった。改革の中心は、飢饉で荒廃した農村復興政策であり、次に**オ**の打ちこわしに見舞われた江戸の都市政策、そして厳しい思想統制・出版統制であった。さらに、<sup>c)</sup>ロシアを中心とする対外危機への対応も解決すべき課題として突き付けられた。1792年、ロシア使節が根室に来航し、日本人漂流民を送還するとともに通商を要求してきた。これ以降、1853年のペリー来航まで、外国船をめぐる様々な事件がおこることになる。定信の厳しい政治は庶民の反発をまねき、また、将軍と対立したことなどもあり、老中を免じられた。

宗尹の孫として一橋家に生まれた家斉は、10代将軍家治の養子となり、1787年に11代将軍となった。50年間にもおよぶ家斉の将軍在任期間は、前半は松平定信の寛政の改革、後半は文化・文政期を中心とした時期で、文化年間までは寛政の改革の質素倭約が受け継<sup>e)</sup>がれたが、文政年間に入ると、放漫財政、将軍や大奥の華やかな生

活，経済活動の活発化，都市を中心とした庶民文化の開花が特徴といえる一方で，関東近郊の農村の荒廃が進み，治安も悪化していった。そこで幕府は，**カ**

水戸藩主徳川斉昭の七男として生まれた慶喜は，水戸藩の藩校である**キ**で学び，1847年に一橋家を継いだ。13代将軍家定の継嗣問題や薩摩藩主導の文久の改革，また1864年に，長州藩が京都に攻めのぼって薩摩・会津・桑名など諸藩の兵と衝突した**ク**のときに禁裏御守衛総督として指揮をとるなど，幕末の歴史にしばしば慶喜は登場するが，1866年12月，いよいよ15代将軍に就任する。この時期，政局の中心は京都になっていたため，慶喜も京都に滞在することがほとんどであったから，一度も江戸城に入らなかった唯一の将軍といわれている。

問1 空欄**ア**に入る文章として正しいものを，次の①～④のうちから一つ選べ。**21**

- ① 海舶互市新例を発して長崎貿易を制限することで金銀の流出を防ぎ，貨幣を改鑄して品質を高めることで物価の上昇を抑える
- ② 印旛沼や手賀沼を干拓するなど大規模な新田開発を進め，株仲間を広く公認することで運上・冥加など営業税の増収をめざす
- ③ 広く定免法を取り入れて年貢率の引上げをはかり，商人資本を利用して新田開発を進めて米の増産を奨励する
- ④ 蝦夷地から得られる海産物を輸出することで金銀の輸入をはかり，幕府直営の座を設けて専売制とする

問2 下線部 a に関する以下の史料の著者として正しいものを，次の①～④のうちから一つ選べ（史料には適宜，手を加えてある）。**22**

近年ノ様子ヲ聞合スルニ，元禄ノ頃ヨリ田舎ヘモ銭行渡テ，銭ニテ物ヲ買コトニ成タリ。…(略)…旅宿ノ境界ナル故，金無テハナラヌ故，米ヲ売テ金ニシテ，商人ヨリ物ヲ買テ日々ヲ送ルコトナレバ，商人主ト成テ武家ハ客也。

- ① 本多利明      ② 佐藤信淵      ③ 太宰春台      ④ 荻生徂徠

問3 空欄 **イ** ・ **ウ** に入る地名・人名の組み合わせとして正しいものを、次の①～④のうちから一つ選べ。 23

- ① イ－天満      ウ－大岡忠相      ② イ－天満      ウ－青木昆陽  
③ イ－堂島      ウ－大岡忠相      ④ イ－堂島      ウ－青木昆陽

問4 下線部 **b** に関して、江戸に芝蘭堂を開き、蘭学の入門書である『蘭学階梯』を著した人物として正しいものを、次の①～④のうちから一つ選べ。 24

- ① 大槻玄沢      ② 稲村三伯      ③ 平賀源内      ④ 渡辺崋山

問5 空欄 **エ** ・ **オ** に入る語句の組み合わせとして正しいものを、次の①～④のうちから一つ選べ。 25

- ① エ－白河      オ－天保      ② エ－白河      オ－天明  
③ エ－越前      オ－天保      ④ エ－越前      オ－天明

問6 下線部 **c** に関する説明として誤っているものを、次の①～④のうちから一つ選べ。 26

- ① 広小路などを設けるとともに、町火消を組織させて大火への備えを強化した。  
② 町費節約分の7割を積み立てて運用し、飢饉や災害時の貧民救済に備えた。  
③ 石川島に人足寄場を設け、無宿人を收容して職業をもたせようと試みた。  
④ 勘定所御用達と呼ばれる豪商を登用して、物価や米価の調整をはかった。

問7 下線部 **d** や、幕府の対応に関する以下の出来事 **I** ~ **IV** について、古いものから年代順に正しく配列したものを、下の①~④のうちから一つ選べ。 27

**I** - モリソン号事件

**II** - グローウニン事件

**III** - 異国船打払令

**IV** - フェートン号事件



① **IV** - **I** - **III** - **II**

② **IV** - **II** - **III** - **I**

③ **II** - **I** - **IV** - **III**

④ **II** - **IV** - **III** - **I**

問8 下線部 **e** の時期を中心に活躍した人物の作品として正しいものを、次の①~④のうちから一つ選べ。 28



問9 空欄 **カ** に入る文章として正しいものを、次の①～④のうちから一つ  
選べ。 **29**

- ① 棄捐令を出し、関東近郊の農村がかかえていた負債を破棄させた。
- ② 関東全域を幕府直轄とする上知令を出し、治安の回復につとめた。
- ③ 関東取締出役を設けて、幕領・私領を問わずに犯罪者の取締りに当たった。
- ④ 旧里帰農令を発して、江戸に流入した農民に帰村・帰農を奨励した。

問10 空欄 **キ** ・ **ク** に入る語句の組み合わせとして正しいものを、次  
の①～④のうちから一つ選べ。 **30**

- ① キ－明倫館      ク－生野の変      ② キ－弘道館      ク－禁門の変
- ③ キ－明倫館      ク－禁門の変      ④ キ－弘道館      ク－生野の変

第4問 次の文章を読み、下の問い(問1～10)に答えよ(史料には適宜、手を加えてある)。

「歳ハ庚子に在り八月某夜、金風浙瀝として露白く天高きの時、一星忽焉として墜ちて声あり、嗚呼自由党死す矣、而して其光荣ある歴史ハ全く抹殺されぬ。」

これは、1900年8月に立憲政友会の創立宣言が発表されたことを受けて、**ア**が『万朝報』に掲載した論説である。タイトルが「自由党を祭る文」、つまり「自由党は死んだのだ」という意味になっているのは、民権運動以来の政党が、藩閥勢力と合流したことに失望したからである。しかし、政党と政府(藩閥勢力)がいつまでも対立を続けていることは決して良いわけではなく、政党を基盤にした政権運営が求められる時代になりつつあったのも事実である。以後、政友会は日本の政党政治をリードする存在となっていく。明治時代の末から大正時代にかけて、政友会の第2代総裁となった西園寺公望と、長州閥の桂太郎が交互に内閣を担当する時期があったが、その最後におきた第一次護憲運動は、政党勢力と民衆の力が形となって表れた出来事だったといえる。<sup>a)</sup>

その後、吉野作造が民本主義を提唱するなど、政治の民主化を求める声<sup>b)</sup>がしだいに高まる中、民衆運動の力は米騒動という形となって再び表れた。ここに元老の**イ**も政党内閣を認め、政友会第3代総裁の原敬を首班とする最初の本格的政党内閣が成立した。しかし、党員が関係する汚職事件が続発するなど政党政治の腐敗に憤激した一青年により、原は東京駅で刺殺された。急遽、政友会総裁を引き継いだ**ウ**が内閣を組織したが短命に終わり、以後しばらく非政党内閣が続くことになる。<sup>c)</sup>

大正時代末期におきた第二次護憲運動の結果、政友会は**エ**・革新倶楽部とともに護憲三派内閣に加わったが、政友会が陸軍出身で長州閥の田中義一を第5代総裁に迎えて革新倶楽部を吸収すると、護憲三派の提携は解消された。しかしこの内閣以降8年にわたり、政友会ともう一方の政党が交代で内閣を組織するという慣習が続くことになる。その間、政友会は二度政権を担った。まず1927年に成立した田中義一内閣である。大蔵大臣**ウ**が手腕を発揮して金融恐慌をしずめるとともに、国内の社会主義勢力への厳しい取り締まりを強行した。<sup>d)</sup>対中国政策でも強硬的な手段に出たが、張作霖爆殺事件の処理をめぐる天皇の不興をかい総辞職した。次は第6代総裁となった犬養毅が1931年に組織した内閣である。このときも大蔵大臣**ウ**が財政・金融政策に大活躍し、その結果、飛躍的に輸出をのばし、<sup>e)</sup>1933年ころには世界恐慌以前の生産水準を回復した。しかし犬養内閣の終わり

は、皮肉にも政党内閣の終わりとなった。1932年の五・一五事件で犬養首相が暗殺されると、海軍大将の斎藤実が組閣したことで、8年続いた政党内閣は崩壊し、戦後まで復活することはなかった。そして日中戦争が長期化する中で展開された新体制運動により、政友会は大政翼賛会への参加を表明して解散した。

戦後、再び政党が復活・結成される中、1945年11月、鳩山一郎を総裁に旧政友会系で翼賛政治に批判的であった勢力を中心として日本自由党が結成された。鳩山が公職追放を受けたのちは吉田茂が総裁を引き継ぎ、以後、何度か名称を変えながら1955年の保守合同を迎える。当時、首相だった鳩山が率いる日本民主党と合流して自由民主党が結成された。これ以降、1993年に非自民の連立内閣である **オ** 内閣が誕生するまで、自民党の総裁が首相に就任する状態が40年近く続くことになった。

問1 空欄 **ア** は、のちに明治天皇暗殺計画に関与した容疑で逮捕され、大逆罪で死刑となった人物である。この人物として正しいものを、次の①～④のうちから一つ選べ。 **31**

- ① 堺利彦                      ② 幸徳秋水                      ③ 徳富蘇峰                      ④ 中江兆民

問2 下線部 a に関する説明として誤っているものを、次の①～④のうちから一つ選べ。 **32**

- ① 桂内閣の閣僚ほとんどが、貴族院からの選出だったことに反発した。  
② 内大臣兼侍従長から首相になるのは、宮中・府中の別を乱すと非難された。  
③ 立憲政友会の尾崎行雄や立憲国民党の犬養毅が運動の先頭に立った。  
④ 運動のスローガンとして「閥族打破」「憲政擁護」が唱えられた。

問3 下線部 **b** に関する説明として誤っているものを、次の①～④のうちから一つ選べ。

33

- ① 普通選挙制にもとづく政党内閣の実現をめざすべきだと主張している。
- ② のちに貴族院で問題となり、この学説は国体明徴声明によって否定された。
- ③ 政治の目的は民衆の福利で、政策決定は民衆の意向に沿うべきだと主張した。
- ④ 天皇主権の明治憲法は否定せず、その枠内での民衆の政治参加を主張した。

問4 空欄 **イ** ・ **ウ** に入る人名の組み合わせとして正しいものを、次の①～④のうちから一つ選べ。

34

- ① **イ** - 伊藤博文                      **ウ** - 高橋是清
- ② **イ** - 伊藤博文                      **ウ** - 山本権兵衛
- ③ **イ** - 山県有朋                      **ウ** - 高橋是清
- ④ **イ** - 山県有朋                      **ウ** - 山本権兵衛

問5 下線部 **c** に関して、非政党内閣が続いた期間の出来事として誤っているものを、次の①～④のうちから一つ選べ。

35

- ① 無政府主義者の大杉栄と伊藤野枝らが、憲兵隊により殺害された。
- ② 摂政宮裕仁親王が、虎の門付近で狙撃されるという事件がおきた。
- ③ 長期にわたり、国際的にも非難されていたシベリア出兵が終了した。
- ④ 軍艦や兵器の購入をめぐる汚職事件であるシーメンス事件が発覚した。

問6 下線部 **d** に関する説明として誤っているものを、次の①～④のうちから一つ選べ。

36

- ① 全国道府県に特別高等警察の設置を拡大して、取り締まりを強化した。
- ② 治安維持法を改正して、「国体の変革」に対する最高刑を死刑とした。
- ③ 三・一五事件や四・一六事件と呼ばれる共産党員の大量検挙を実行した。
- ④ 人民戦線の結成をはかったとして、大学教授の大内兵衛らを検挙した。



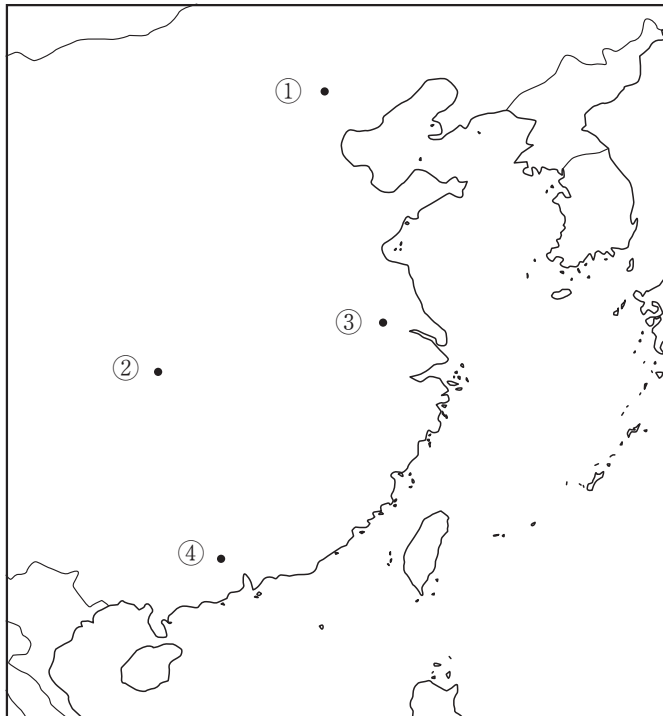
問7 下線部 e に関する説明として正しいものを、次の①～④のうちから一つ選べ。

37

- ① 旧円の流通禁止と預金封鎖を断行することで、インフレを抑えた。
- ② 為替相場の安定と貿易の振興をめざして、旧平価での金解禁を断行した。
- ③ 3週間のモラトリアムを発して、日銀から巨額の救済融資をおこなった。
- ④ 赤字国債を発行し、軍事費・農村救済費を中心とした積極財政をとった。

問8 下線部 f に関して、1937年12月に日本軍が占領した中国国民党政府の首都はどこか。以下の地図から正しい位置を、次の①～④のうちから一つ選べ。

38



問9 空欄 **工** ・ **オ** に入る語句・人名の組み合わせとして正しいものを、次の①～④のうちから一つ選べ。 39

- ① 工－憲政会      オ－細川護熙      ② 工－憲政党      オ－村山富市  
③ 工－立憲民政党      オ－細川護熙      ④ 工－立憲同志会      オ－村山富市

問10 下線部 **g** に関して、以下に示す首相と、その内閣に関係が深い史料の組み合わせとして正しいものを、次の①～④のうちから一つ選べ(史料は、原文の一部を抜粋したものである)。 40

- ① **首相**：池田勇人  
**史料**「日本国と各連合国との間の戦争状態は、第二十三条の定めるところによりこの条約が日本国と当該連合国との間に効力を生ずる日に終了する。」
- ② **首相**：田中角栄  
**史料**「日本国と中華人民共和国との間のこれまでの不正常な状態は、この共同声明が発出される日に終了する。」
- ③ **首相**：佐藤栄作  
**史料**「ソヴィエト社会主義共和国連邦は、国際連合への加入に関する日本国の申請を支持するものとする。」
- ④ **首相**：岸 信介  
**史料**「千九百十年八月二十二日以前に大日本帝国と大韓帝国との間で締結されたすべての条約及び協定は、もはや無効であることが確認される。」

日本史の問題はここまでです。

日本史 解答例

第1問	解答番号	解答
問1	1	③
問2	2	②
問3	3	①
問4	4	③
問5	5	④
問6	6	④
問7	7	②
問8	8	③
問9	9	①
問10	10	③

第2問	解答番号	解答
問1	11	①
問2	12	④
問3	13	②
問4	14	③
問5	15	②
問6	16	①
問7	17	③
問8	18	①
問9	19	②
問10	20	④

第3問	解答番号	解答
問1	21	③
問2	22	④
問3	23	③
問4	24	①
問5	25	②
問6	26	①
問7	27	②
問8	28	②
問9	29	③
問10	30	②

第4問	解答番号	解答
問1	31	②
問2	32	①
問3	33	②
問4	34	③
問5	35	④
問6	36	④
問7	37	④
問8	38	③
問9	39	①
問10	40	②